

Всероссийская олимпиада школьников по географии
Алтайский край
Муниципальный этап, 2019-2020 г.г.

8 класс

Общее время для выполнения заданий муниципального этапа Олимпиады составляет около 3 астрономических часа.
Сумма баллов за все правильные ответы теоретического раунда – 50 баллов.
Сумма баллов за все правильные ответы тестового раунда – 20 баллов.
Общая сумма баллов за 2 раунда – 70 баллов.
Использование любых справочных материалов и карт не допускается.
Для ответов на вопросы по карте можно пользоваться линейкой, транспортиром, простым калькулятором.
Ответы на вопросы теоретического и тестового раундов записываются на листах для ответа и сдаются дежурному по аудитории.

ФИО ЧЛЕНОВ ЖЮРИ:

Боревикова Ю. И.
Соболев

Абрамов В. И.

Г. М.

СВЕДЕНИЕ ОБ УЧАСТНИКЕ ОЛИМПИАДЫ

ФАМИЛИЯ	Полвиенко
ИМЯ	Максим
ОТЧЕСТВО	Сергеевич
КЛАСС	8 класс
ШКОЛА	БСШ
КРАЙ, РАЙОН, ГОРОД / ПОСЕЛОК /СЕЛО	Алтайский край, Боровский район, село Борово.

ТЕОРЕТИЧЕСКИЙ РАУНД 145.

ТЕСТОВЫЙ РАУНД 50

ОБЩЕЕ КОЛИЧЕСТВО БАЛЛОВ 225.

ТЕОРЕТИЧЕСКИЙ РАУНД 8 КЛАСС

Задача 1. Внимательно прочитайте текст.

В июне 2011 г. группа географов отправилась в экспедицию по маршруту ~~Жейптаун~~ – ~~Киншаса~~ – ~~Лагос~~ – ~~Дакар~~ – ~~Рабат~~. В каждом из пунктов она проводила наблюдения за состоянием природной среды. Результаты были занесены в таблицу. Установите названия пунктов наблюдения по приведенным характеристикам и укажите, в какой природной зоне они расположены.

Температура воздуха, °С	Влажность почвы, %	Количество естественной биомассы, т/га	Название пункта наблюдений	Природная зона
+ 23,3	18	10,3	Рабат 1	Умеренный 0
+ 26,0	6	1,9	Дошор 1	Умеренный 0
+ 24,3	18	21,6	Матос 0	Умеренный 0
+ 24,8	63	30,2	Кейптаун 0	Антарктика 0
+ 9,3	40	11,0	Киншаса 0	Суб-антарктика 0

25

Задача 2. Известно, что природная среда оказывала значительное влияние на строительство национальных жилищ. На Руси избы строили из бревен, на Кавказе сакли – из камней.

Заполните таблицу, ответив на следующие вопросы.

Как называются традиционные жилища украинцев и якутов? Предположите, из каких материалов могли быть сделаны стены и крыша? Почему один из этих народов имеет два типа традиционных жилищ?

Народ	Название традиционного жилища	Стены	Крыша
Украинцы	Хата	Камни с глиной 1	Солома 1
Якуты		0	0
	Изба	Брёвна 1	Еловые ветки 0

Ответ на последний вопрос:

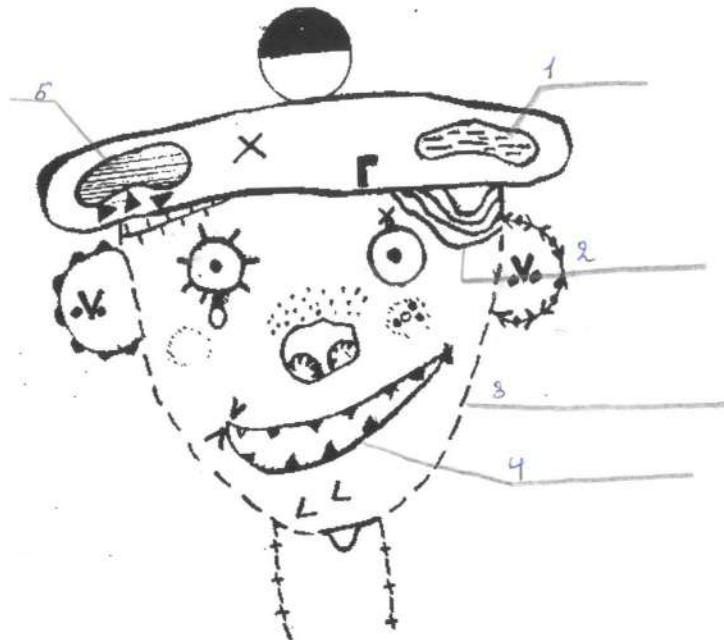
Якуты имеют два типа жилища потому что, одни падают зимой, и им нужно жилье которое можно быстро демонтировать и перенести на другое место, а другие живут постоянно жилища

45

Задача 3. Внимательно рассмотрите фотографию. Заполните таблицу, ответив на вопросы.



Задача 4. Внимательно рассмотрите рисунок. Найдите на данном изображении условные топографические знаки. У каждого найденного условного знака на этом рисунке поставьте цифру, а затем внесите её в таблицу и сделайте расшифровку.



Вопрос	Ответ
Какой мост изображён на фотографии?	Крыжисский мост 2
Какие природные трудности необходимо было решать при строительстве этого сооружения? (укажите четыре трудности)	1. Ископное дно. - 2. Приливы и отливы, штормы. - 3. Широкие животины. - 4. Штормы. -

25

1. Болота +	болотистые места	
2. неровности -	горы, возвышенности	
3. деревья зрания -	редко используемые дары	
4. обрывы -	обрывы, скалы	
5. озёра +	озёра, моря, каналы.	

25

Задача 5. Из предложенного списка укажите 10 городов (отметьте плюсом), через которые проходит Транссибирская магистраль.

Список городов	Города Сибири и Дальнего Востока, через которые проходит Транссибирская магистраль
Абакан	+ 0
Барнаул	-
Бийск	-
Владивосток	+ 1
Иркутск	+ 1
Кемерово	+ 0
Комсомольск-на-Амуре	-
Красноярск	+ -
Кызыл	+
Новокузнецк	-
Новосибирск	+ 1
Омск	+ 1
Тайшет	-
Тобольск	-
Томск	-
Тюмень	+ 1
Улан-Удэ	+ 1
Усть-Кут	-
Хабаровск	+ 1
Чита	-

75.

ТЕСТОВЫЙ РАУНД 8 КЛАСС

Вопрос	Ответ
<p>1. Из какого растения, произрастающего в Южной и Центральной Америке, делают «мексиканскую водку»?</p> <p>А) Кебрачо белое Б) Сейба, или шерстяное дерево В) Агава голубая Г) Юкка слоновая</p>	Б 0
<p>2. Какое дерево, произрастающее в Южной и Центральной Америке, называют «сломай топор»?</p> <p>А. Бертолеция Б. Цекропия В. Сейба, или шерстяное дерево Г. Кебрачо белое</p>	В Г 1
<p>3. Для таёжной природной зоны Евразии <u>не характерно</u> следующее семейство среди млекопитающих:</p> <p>А) Медвежьи (например, бурый медведь) Б) Кошачьи (например, обыкновенная рысь) В) Беличьи (например, обыкновенная белка, или векша, сибирский бурундук) Г) Дикобразовые (например, кистехвостый дикобраз)</p>	Г 1
<p>4. Эта природная зона занимает большие площади в пределах Евразии и Северной Америки. Общий набор древесных видов небогат. Эти леса монодоминантные и представлены простой ярусной структурой (древесный, подлесок, кустарничково-травяной, мохово-лишайниковый). В таких лесах периодически возникают пожары, в т.ч. и на торфяниках. О какой природной зоне идёт речь?</p> <p>А) переменнo-влажные леса (в т.ч. муссонные) Б) смешанные и широколиственные леса В) жестколистные вечнозеленые леса и кустарники Г) тайга</p>	Б 0

5. Какой вклад в историю исследований и освоения территории России внёс российский государственный деятель, изображённый на купюре достоинством 5000 рублей образца 1997 года? Его имя связано с:





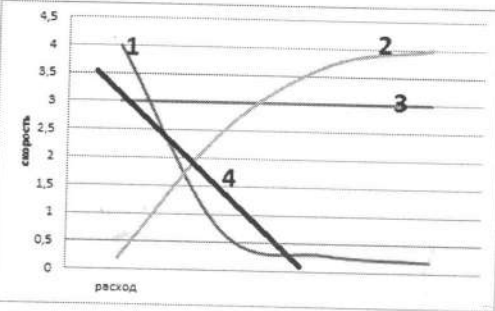
- А) расширением российских владений в Восточной Сибири в XVIII-XIX веках
Б) хозяйственным освоением Аляски в начале XIX века
В) развитием горнозаводского дела на Урале
Г) первым русским кругосветным плаванием 1803-1806 гг.

6. Как сегодня называется одно из окраинных морей Северного Ледовитого океана, о котором идёт речь в научной монографии А. В. Колчака «Лед Карского и Сибирского морей» (СПб: 1906)?

«Некоторые географы приняли термин «Норденшельдово море» после плавания Норденшельда на «Вега» в 1878 году. С этим термином, который то появляется на картах, то исчезает, на русских же, английских и американских в большинстве случаев отсутствует, трудно согласиться, считая, что для его принятия нет достаточно основания, т.к. первое плавание по этому морю по тому же самому прибрежному пути, которым шла «Вега», было совершено в 1735 и 1736 годах лейтенантом Прончищевым на дубель-шлюпке «Якутск», а второе – лейтенантом Харитоном

Г 0

<p><i>Лаптевым на том же судне в 1739 и 1740 годах».</i></p> <p>А) Берингово море Б) Восточно-Сибирское море В) море Лаптевых Г) Чукотское море</p>	<p>Б 0</p>
<p>7. Герб, какой республики России изображён на фото?</p>  <p>А) Тыва Б) Бурятия В) Ингушетия Г) Башкортостан</p>	<p>В 0</p>
<p>8. На рисунке представлен образец русской народной художественного промысла. Какой промысел изображён на нём?</p>  <p>А) Жостовская роспись Б) Городецкая роспись В) Палехская роспись Г) Хохломская роспись</p>	<p>Б 0</p>

<p>9. Скорость потока и расход воды постоянно измерялись на одном и том же участке реки. На каком графике правильно показано соотношение между скоростью потока и расходом реки?</p>  <p>А) 1 Б) 2 В) 3 Г) 4</p>	<p>Б 0</p>
<p>10. Какой геологический период располагается между Ордовикским и Девонским?</p> <p>А) Силурийский Б) Кембрийский В) Каменноугольный (Карбоновый) Г) Пермский</p>	<p>А 1</p>
<p>11. Выберите из списка реальный географический объект:</p> <p>А) Татарский пролив Б) Латышское море В) Чувашский залив Г) Башкирское течение</p>	<p>Г 0</p>
<p>12. Какой из этих морских портов России является замерзающим в холодное время года?</p> <p>А) Калининград Б) Архангельск В) Новороссийск Г) Мурманск</p>	<p>Г 0</p>
<p>13. О какой физико-географической области Кавказа идёт речь в следующем описании? <i>Эта физико-географическая область относится к альпийской складчатости. Имеет антиклинальное</i></p>	

<p>строение. <i>Обнажаются докембрийские, палеозойские и триасовые породы. В неоген-четвертичное время сформировалось горное оледенение. Часты обвалы, камнепады, осыпи. Наблюдается уменьшение площади ледников. В 2002 году был сход ледника Колка в Кармадонское ущелье.</i></p> <p>А) Западный Кавказ Б) Восточный Кавказ В) Центральный Кавказ Г) Северо-Западный Кавказ</p>	Г 0
<p>14. В южной части этого природного комплекса России наблюдаются следующие явления. <i>Недостаточное и неустойчивое увлажнение. Коэффициент увлажнения меньше единицы. Испарение лимитируется количеством осадков. Наблюдаются засухи и пыльные бури из-за арктических воздушных масс и тёплого сухого воздуха Средней Азии. Реки маловодны. Питание рек преимущественно – снеговое.</i></p> <p>А) Восточно-Европейская равнина Б) Урал В) Западная Сибирь Г) Восточная Сибирь</p>	А 0
<p>15. О каком водохранилище идёт речь в следующем описании? <i>Это водохранилище располагается на реке Волга. Его используют для водоснабжения, орошения, судоходства. Расположено вдоль Приволжской возвышенности. К югу от него находится город Балаково.</i></p> <p>А) Куйбышевское Б) Саратовское В) Волгоградское Г) Чебоксарское</p>	А 0
<p>16. Назовите самую высокую горную вершину, расположенную на территории Алтайского края:</p>	

<p>А) Бабьрган Б) Пик Шангина или «Маяк Шангина» В) Белуха Г) Синюха</p>	В 0
<p>17. Самое большое по площади озеро Алтайского края: А) Кучукское Б) Большое Яровое В) Кулундинское Г) Большое Топольное</p>	В 1
<p>18. Самой длинной рекой в пределах Алтайского края является: А) Обь Б) Чарыш В) Катунь Г) Алей</p>	А 0
<p>19. По результатам Всероссийской переписи населения 2010 года, в Алтайском крае второй по численности населения после русских была следующая национальность: А) казахи Б) немцы В) украинцы Г) алтайцы</p>	А 0
<p>20. «Маяк Шангина» в Алтайском крае – это: А) речной порт Б) заказник В) памятник архитектуры Г) горная вершина</p>	Г 1

55.

Всероссийская олимпиада школьников по географии
Алтайский край
Муниципальный этап, 2019-2020 г.г.

10 класс

Общее время для выполнения заданий муниципального этапа Олимпиады составляет около 3 астрономических часа.

Сумма баллов за все правильные ответы теоретического раунда – 50 баллов.

Сумма баллов за все правильные ответы тестового раунда – 20 баллов.

Общая сумма баллов за 2 раунда – 70 баллов.

Использование любых справочных материалов и карт не допускается.

Для ответов на вопросы по карте можно пользоваться линейкой, транспортиром, простым калькулятором.

Ответы на вопросы теоретического и тестового раундов записываются на листах для ответа и сдаются дежурному по аудитории.

СВЕДЕНИЕ ОБ УЧАСТНИКЕ ОЛИМПИАДЫ

ФАМИЛИЯ	Литвиненко
ИМЯ	Иван
ОТЧЕСТВО	Богданович
КЛАСС	10 класс
ШКОЛА	МБОУ "Басовская СОШ"
КРАЙ, РАЙОН, ГОРОД / ПОСЕЛОК /СЕЛО	Алтайский край, Басовский район, село Басово

ТЕОРЕТИЧЕСКИЙ РАУНД 95

ТЕСТОВЫЙ РАУНД 165

ОБЩЕЕ КОЛИЧЕСТВО БАЛЛОВ 250

ФИО ЧЛЕНОВ ЖЮРИ: Бороненко Ю.И.

Соболев

Абрамов В.И.

К.И.

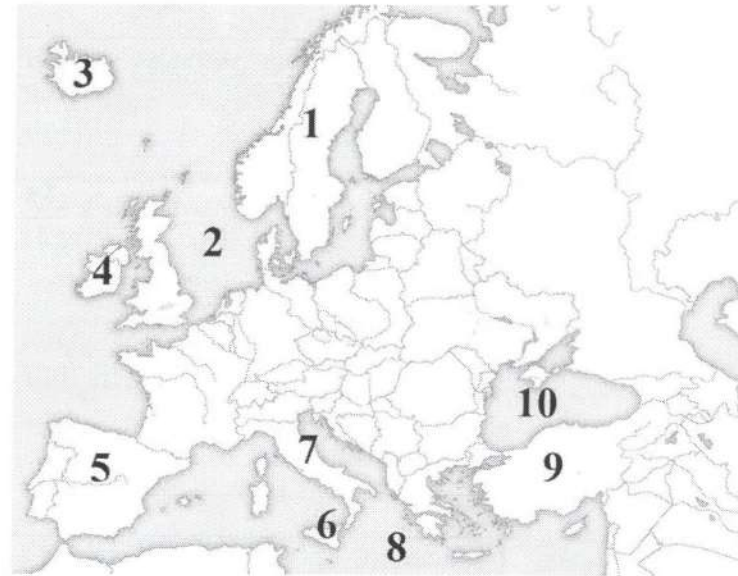
ТЕОРЕТИЧЕСКИЙ РАУНД 10 КЛАСС

Задача 1. Определите название стран по следующим кратким характеристикам. Заполните таблицу.

Краткая характеристика	Название страны
А) Второй по численности населения город этой страны называется Брно	—
Б) Официальными языками этой страны являются немецкий, французский, итальянский и ретороманский	—
В) В столице этой страны находится штаб-квартира Евросоюза	Франция Италия
Г) Эта страна и ее столица имеют одно и тоже название	—
Д) Большая часть этой страны располагается на полуострове Ютландия	—
Е) В этой стране в 1964 и 1976 гг. проводились Зимние олимпийские игры	Германия —
Ж) В современных границах этой страны ранее располагалось историческое государство Речь Посполитая	Германия —
З) В столице этой страны находится всемирно известная Эйфелева башня	Франция 15
И) Государственный флаг этой страны имеет те же цвета, что и у России — красный, белый и синий по горизонтали	—
К) Эта страна является «локомотивом» Европы	—

15.

Задача 2. Соотнесите географические объекты Европы с цифрами, отмеченными на контурной карте. Заполните таблицу.



Географические объекты	Цифры, отмеченные на контурной карте
А) Апеннинский полуостров	5 0
Б) Северное море	2 1
В) Чёрное море	10 1
Г) остров Исландия	3 1
Д) Скандинавский полуостров	1 1
Е) остров Сицилия	6 1
Ж) полуостров Малая Азия	9 1
З) Средиземное море	8 1
И) остров Ирландия	4 1
К) Пиренейский полуостров	1 0

85.

Задача 3. Прочитайте известное стихотворение В.В. Маяковского. Заполните таблицу, ответив на следующие вопросы.

«По небу тучи бегают,

Дождями сумрак сжат,

под старою телегою

рабочие лежат.

И слышит шепот гордый

вода и под и над:

"Через четыре года

здесь будет город-сад!"

Темно свинцовоночие,

и дождик толст, как жгут,

сидят в грязи рабочие,

сидят, лучину жгут.

Сливеют губы с холода,

но губы шепчут в лад:

"Через четыре года

здесь будет город-сад!" ...

Здесь встанут стройки стенами.

Гудками, пар, сипи.

Мы в сотню солнц мартенами

Воспламеним Сибирь». (1929 г.)

Вопрос	Ответ
Какому городу нашей страны оно посвящено?	—
Какие события описываются в нём?	Строительство города ^{т.е. ст.в.} как будто из неба ^{за колоссальную} за 4 года. Строительство пройдёт в Сибири на берегу реки или моря.
Какое название он имел до 1931 года?	—
Какое название он имел в 1932-1961 гг.?	—
Каковы главные отрасли промышленности города?	1. Торговля по морским путям. 2. Карачиестроение — 3. Электроэнергетика + 4. 0 5. 6.

05

Задача 4. В данную таблицу включены утверждения об одном из субъектов Российской Федерации. Прочитайте внимательно текст, а затем ответы запишите в таблицу.

Утверждение о субъекте	Ответ
А) Назовите <u>регион</u> , один из крупнейших в России по численности населения, который начал своё промышленное развитие с петровских времен	Нижегородская область 0
Б) Данный субъект РФ расположен в пределах <u>горного природного региона</u>	
В) Данный субъект РФ расположен в пределах <u>равнинного природного региона</u>	Московская область 0
Г) Столица этого региона является <u>городом-миллионером</u>	Московская, Новосибирская, Новосибирской области 0
Д) В этом субъекте РФ развита промышленность, которая тесно связана с <u>ВПК</u>	
Е) Через этот город проходит <u>Транссибирская магистраль</u>	Новосибирск 0
Ж) Это <u>предприятие машиностроительного комплекса</u> столицы региона наиболее известно еще с советского периода	Москва 0
З) По территории данного субъекта протекает река, впадающая в Каму	
И) <u>Известный политик РФ</u> был первым секретарем компартии этого региона в советский период времени	
К) Это <u>политическое событие</u> произошло в столице региона в 1918 году в помещении дома Ипатьева.	

0

Задача 5. На картосхеме Алтайского края цифрами обозначены 4 муниципальных района. Изучите отдельные факты по каждому району и заполните таблицу.



Отдельные факты по району	Название	Административный центр	Цифра	Доминирующая (по площади) природная зона	Главная водная артерия (если такая имеется)
Ранее данный район назывался сначала Чумышским, а потом Сорокинским					
В административном центре района расположен мемориальный музей В.С.Золотухина					
На территории района находится железная дорога на линии Турксиба					
На территории этого района расположено более 20 озер	<i>Сибирский район</i>	<i>Сибирск</i>	<i>4</i>		

0

ТЕСТОВЫЙ РАУНД 10 КЛАСС

Вопрос	Ответ										
<p>1. Выберите группу регионов, где самые высокие средние зарплаты в России на душу населения:</p> <p>А) Ленинградская область и Республика Карелия Б) Новосибирская область и Красноярский край В) Иркутская область и Свердловская область Г) Сахалинская область и Мурманская область</p>	<p>2</p> <p>15</p>										
<p>2. Выберите один вариант ответа. В этих регионах Российской Федерации самая низкая плотность населения.</p> <p>А) Алтайский край и Ярославская область Б) Томская область и Иркутская область В) Смоленская область и Свердловская область Г) Новгородская область и Костромская область</p>	<p>20</p>										
<p>3. Установите соответствие между коренными малочисленными народами и субъектом Российской Федерации, на территории которого они проживают. Запишите в ответ буквы, расположив их в порядке, соответствующем цифрам.</p> <table border="1" style="width: 100%; border-collapse: collapse; margin-top: 10px;"> <thead> <tr> <th style="width: 30%;">Коренные малочисленные народы</th> <th style="width: 70%;">Субъект Российской Федерации</th> </tr> </thead> <tbody> <tr> <td>1) ительмены</td> <td>А) Республика Карелия</td> </tr> <tr> <td>2) саамы</td> <td>Б) Алтайский край, Республика Алтай, Кемеровская область</td> </tr> <tr> <td>3) ижорцы</td> <td>В) Камчатский край</td> </tr> <tr> <td>4) кумандинцы</td> <td>Г) Ленинградская область</td> </tr> </tbody> </table>	Коренные малочисленные народы	Субъект Российской Федерации	1) ительмены	А) Республика Карелия	2) саамы	Б) Алтайский край, Республика Алтай, Кемеровская область	3) ижорцы	В) Камчатский край	4) кумандинцы	Г) Ленинградская область	<p>6+</p> <p>5-15</p> <p>2+</p> <p>а-</p>
Коренные малочисленные народы	Субъект Российской Федерации										
1) ительмены	А) Республика Карелия										
2) саамы	Б) Алтайский край, Республика Алтай, Кемеровская область										
3) ижорцы	В) Камчатский край										
4) кумандинцы	Г) Ленинградская область										
<p>4. Выберите правильный вариант ответа. В этих городах России самая большая доля иностранных мигрантов в населении города:</p> <p>А) Иваново и Ульяновск Б) Самара и Нижний Новгород В) Грозный и Махачкала Г) Москва и Санкт-Петербург</p>	<p>15</p> <p>2</p>										

<p>5. Выберите правильный вариант ответа. Республики Дагестан, Северную Осетию (Аланию), Ставропольский край включают в:</p> <p>А) Северо-Кавказский экономический район, Южный федеральный округ Б) Северо-Кавказский экономический район, Северо-Кавказский федеральный округ В) Северо-Кавказский экономический район, Приволжский федеральный округ Г) Уральский экономический район, Южный федеральный округ</p>	<p>5</p> <p>15</p>										
<p>6. Выберите правильный вариант ответа. Кировскую, Нижегородскую области, Республику Чувашию включают в:</p> <p>А) Северный экономический район, Приволжский федеральный округ Б) Центральный экономический район, Центральный федеральный округ В) Поволжский экономический район, Приволжский федеральный округ Г) Волго-Вятский экономический район, Приволжский федеральный округ</p>	<p>2</p> <p>15</p>										
<p>7. Установите соответствие между субъектом Российской Федерации и годом его образования (или последнего преобразования). Запишите в ответ буквы, расположив их в порядке, соответствующем цифрам.</p> <table border="1" style="width: 100%; border-collapse: collapse; margin-top: 10px;"> <thead> <tr> <th style="width: 40%;">Субъект Российской Федерации</th> <th style="width: 60%;">Год образования (преобразования) субъекта</th> </tr> </thead> <tbody> <tr> <td>1) Пермский край</td> <td>А) 2008</td> </tr> <tr> <td>2) Забайкальский край</td> <td>Б) 2005</td> </tr> <tr> <td>3) Республика Крым в составе РФ</td> <td>В) 2007</td> </tr> <tr> <td>4) Камчатский край</td> <td>Г) 2014</td> </tr> </tbody> </table>	Субъект Российской Федерации	Год образования (преобразования) субъекта	1) Пермский край	А) 2008	2) Забайкальский край	Б) 2005	3) Республика Крым в составе РФ	В) 2007	4) Камчатский край	Г) 2014	<p>6-</p> <p>а+</p> <p>2+</p> <p>5-</p> <p>15</p>
Субъект Российской Федерации	Год образования (преобразования) субъекта										
1) Пермский край	А) 2008										
2) Забайкальский край	Б) 2005										
3) Республика Крым в составе РФ	В) 2007										
4) Камчатский край	Г) 2014										
<p>8. Установите соответствие между городом и</p>											

страной, в которой он расположен. Запишите в ответ буквы, расположив их в порядке, соответствующем цифрам.		2+ 9+ 0+ 25 6+ 6
Город	Страна	
1) Запорожье	А) Казахстан	
2) Кустанай	Б) Австралия	
3) Аделаида	В) Франция	
4) Лион	Г) Украина	
9. Какое государство относится к странам Карибского бассейна? А) Восточное Самоа Б) Эквадор В) Филиппины Г) Доминиканская Республика		2 15
10. Какая страна одновременно входит в пятерку лидеров и по экспорту и по импорту вооружения? А) США Б) Китай В) КНДР Г) Россия		5 15
11. Из этих государств в последнюю четверть века выезжает самый большой процент местного населения в другие страны: А) Республика Корея и Индонезия Б) Италия и Испания В) Япония и Китай Г) Ямайка и Киргизия		0 0
12. Это самый маленький по численности город Китая: А) Чжэнчжоу Б) Шэньчжень В) Ухань Г) Харбин		2 15
13. В этих городах больше всего иностранных туристов по статистике последних лет:		8 0

А) Нью-Йорк и Стамбул Б) Бангкок и Лондон В) Вена и Мадрид Г) Москва и Пекин	
14. Назовите из списка одну страну, где в структуре доходов бюджета меньше всего получают от продажи продукции машиностроения за рубежом: А) Малайзия Б) Тайвань В) Россия Г) Словакия	6 15
15. Выберите два государства, где самый высокий индекс человеческого развития: А) Испания и Италия Б) Саудовская Аравия и Япония В) Израиль и Республика Корея Г) Норвегия и Австрия	5 0
16. В этих странах самая низкая плотность населения: А) Азербайджан и Мексика Б) Нигер и Перу В) Польша и Ливан Г) Испания и Турция	5 15
17. Эти страны выделяются развитостью отраслей хозяйства связанных с медициной, они приносят существенный экспортный доход: А) Великобритания и Израиль Б) Россия и Бразилия В) Литва и Румыния Г) Индия и Колумбия	0 15
18. Эти страны являются лидерами в мире по поголовью крупнорогатого скота: А) США и Китай Б) Аргентина и Россия В) Бразилия и Индия	6 15

Г) Канада и Франция	
19. Какой из штатов США не имеет морских границ? А) Вашингтон Б) Арканзас В) Алабама Г) Нью-Гэмпшир	15
20. Это самое большое по площади федеративное образование (штат или субъект) из предложенных: А) Калифорния Б) Саскачеван В) Мату-Гросу Г) Иркутская область	20

165

Всероссийская олимпиада школьников по географии
Алтайский край
Муниципальный этап, 2019-2020 г.г.

11 класс

Общее время для выполнения заданий муниципального этапа Олимпиады составляет около 3 астрономических часа.

Сумма баллов за все правильные ответы теоретического раунда – 50 баллов.

Сумма баллов за все правильные ответы тестового раунда – 20 баллов.

Общая сумма баллов за 2 раунда – 70 баллов.

Использование любых справочных материалов и карт не допускается.

Для ответов на вопросы по карте можно пользоваться линейкой, транспортиром, простым калькулятором.

Ответы на вопросы теоретического и тестового раундов записываются на листах для ответа и сдаются дежурному по аудитории.

ФИО ЧЛЕНОВ ЖЮРИ: Боровикова С.И.
Ю.И.
Абрамов В.И.
К.И.

СВЕДЕНИЕ ОБ УЧАСТНИКЕ ОЛИМПИАДЫ

ФАМИЛИЯ	Татаренков
ИМЯ	Данила
ОТЧЕСТВО	Александрович
КЛАСС	11 класс
ШКОЛА	Китнегуманская
КРАЙ, РАЙОН, ГОРОД / ПОСЕЛОК /СЕЛО	Алтайский край, Баянский район, с. Китнегуманская

ТЕОРЕТИЧЕСКИЙ РАУНД 195.

ТЕСТОВЫЙ РАУНД 135

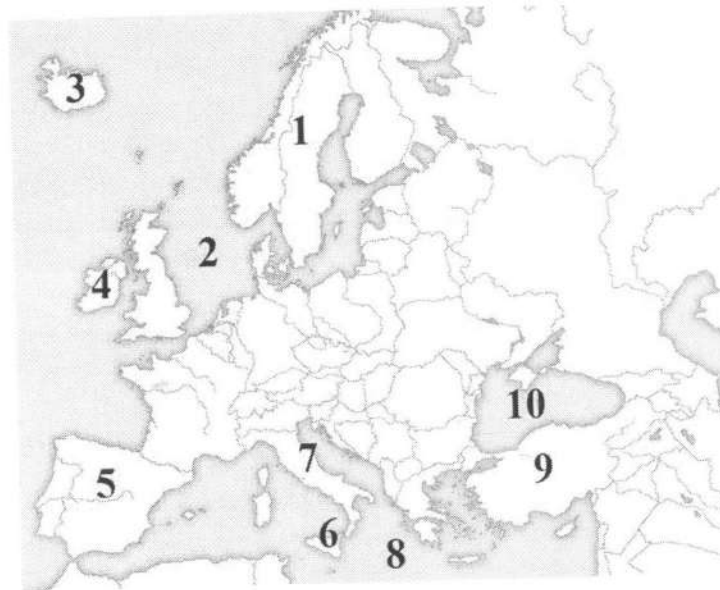
ОБЩЕЕ КОЛИЧЕСТВО БАЛЛОВ 325.

ТЕОРЕТИЧЕСКИЙ РАУНД 11 КЛАСС

Задача 1. Определите название стран по следующим кратким характеристикам. Заполните таблицу.

Краткая характеристика	Название страны
А) Второй по численности населения город этой страны называется Брно	Чехия 15
Б) Официальными языками этой страны являются немецкий, французский, итальянский и ретороманский	Швейцария 15
В) В столице этой страны находится штаб-квартира Евросоюза	Бельгия -
Г) Эта страна и ее столица имеют одно и тоже название	Бразилия -
Д) Большая часть этой страны располагается на полуострове Ютландия	Дания 15
Е) В этой стране в 1964 и 1976 гг. проводились Зимние олимпийские игры	Австрия 15
Ж) В современных границах этой страны ранее располагалось историческое государство Речь Посполитая	Польша 15
З) В столице этой страны находится всемирно известная Эйфелева башня	Италия Франция 15
И) Государственный флаг этой страны имеет те же цвета, что и у России – красный, белый и синий по горизонтали	Словакия -
К) Эта страна является «локомотивом» Европы	Германия 15

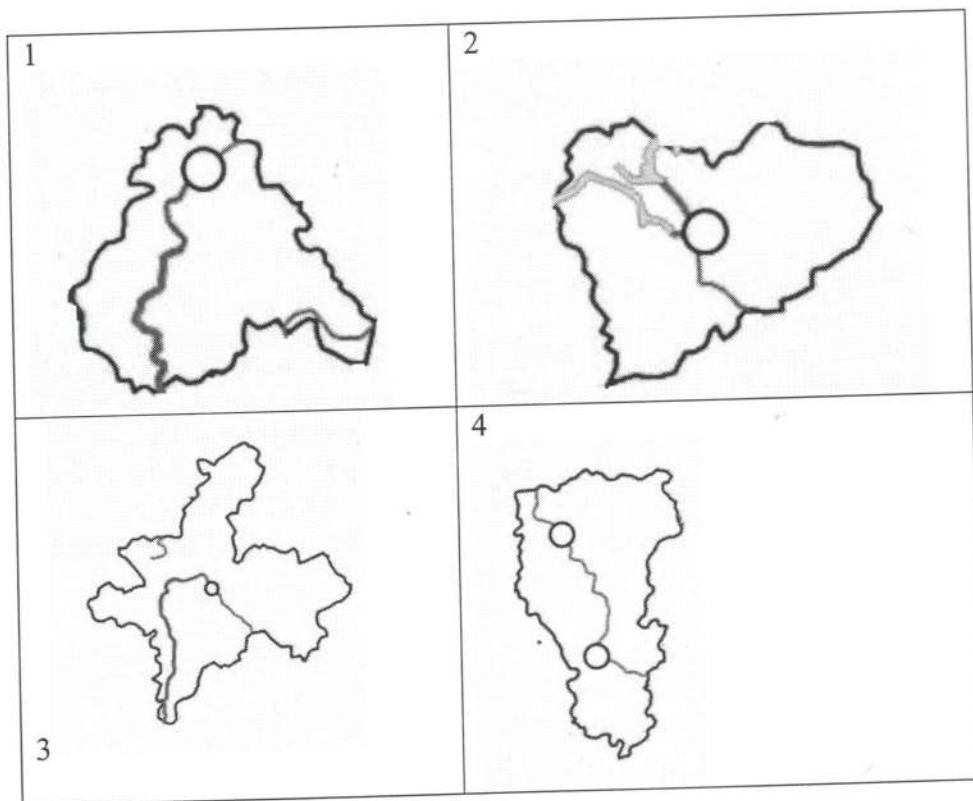
Задача 2. Соотнесите географические объекты Европы с цифрами, отмеченными на контурной карте. Заполните таблицу.



Географические объекты	Цифры, отмеченные на контурной карте
А) Апеннинский полуостров	7 15
Б) Северное море	2 15
В) Чёрное море	10 15
Г) остров Исландия	3 15
Д) Скандинавский полуостров	1 15
Е) остров Сицилия	6 15
Ж) полуостров Малая Азия	9 15
З) Средиземное море	8 15
И) остров Ирландия	4 15
К) Пиренейский полуостров	5 15

Задача 3. Внимательно рассмотрите рисунки и заполните таблицу, ответив на следующие задания.

Назовите 4 субъекта РФ, а также укажите их принадлежность к федеральным округам, экономическим районам. После этого напишите название главной водной артерии, протекающей по территории каждого субъекта РФ. Укажите основную промышленность (или комплекс отраслей), характерную для каждого субъекта.



Но мер	Название субъекта РФ	Название федерального округа	Название экономического района	Главная водная артерия	Основная промышленность (или комплекс отраслей) (укажите два любых варианта из общего списка)
1					
2					
3					
4	Кувейкская область	Приволжский	Волго-Вятский	река Вятка	химическая и черная металлургия

Задача 4. Прочитайте внимательно текст. В указанных скобках запишите правильный ответ.

- А) Назовите страну (Великобритания), территория которой была с XVI до начала XIX вв. ведущей колониальной метрополией.
- Б) Назовите столицу этого государства (Лондон 0).
- В) Её колония в Южной Америке (Бразилия 10) была самой большой по площади территории.
- Г) Основной язык в «бывшей колонии» (- 0).
- Д) К западу от этой страны располагаются острова (0) вулканического происхождения, принадлежащие этому государству.
- Е) К юго-западу от этой страны располагаются острова (0), принадлежащие этому государству. В эпоху Великих географических открытий они были местом стоянки кораблей.
- Ж) Известный инфант (0), являлся организатором морских экспедиций вдоль побережья Западной Африки в XV веке.
- З) Бывшая колония этой страны в Индии (0) является одним из главных мест притяжения туристов со всего мира.
- И) На территории этого государства находится одна из крайних точек материка (0).
- К) К юго-востоку от этой страны находятся владения Великобритании (0).

Задача 5. Внимательно прочитайте текст. В указанных скобках запишите правильный ответ.

- А) Назовите страну (Италия), которая еще 60 лет назад даже не относилась к среднеразвитым государствам, а сейчас здесь производятся очень многие высокотехнологичные товары постиндустриальных отраслей.
- Б) Западная часть этой страны расположена на полуострове (-).
- В) Восточная часть этой страны расположена на острове (-).
- Г) Столица (Италия) этого государства входит в двадцатку самых посещаемых городов мира иностранными туристами.
- Д) Религия, которую исповедует большинство граждан этой страны (Иудаизм).
- Е) В прошлом веке от территории рассматриваемого государства отсоединилась часть ее владений, ставшая в дальнейшем высокоразвитым государством (-).
- Ж) В пределах отсоединённой части со значительным перевесом по численности проживало этническое большинство (-).
- З) Территория государства омывается водами известного пролива (-), где относительно недавно господствовали пираты. В современное время случаются их нападения.
- И) Государство является активным членом одной из известнейших интеграционных группировок (-).
- К) Данная страна входит в состав крупного региона мира (Ю-В Азия 10).

ТЕСТОВЫЙ РАУНД 11 КЛАСС

Вопрос	Ответ										
<p>1. Выберите группу регионов, где самые высокие средние зарплаты в России на душу населения: А) Ленинградская область и Республика Карелия Б) Новосибирская область и Красноярский край В) Иркутская область и Свердловская область Г) Сахалинская область и Мурманская область</p>	Г 1										
<p>2. Выберите один вариант ответа. В этих регионах Российской Федерации самая низкая плотность населения. А) Алтайский край и Ярославская область Б) Томская область и Иркутская область В) Смоленская область и Свердловская область Г) Новгородская область и Костромская область</p>	А 0										
<p>3. Установите соответствие между коренными малочисленными народами и субъектом Российской Федерации, на территории которого они проживают. Запишите в ответ буквы, расположив их в порядке, соответствующем цифрам.</p> <table border="1" style="width: 100%; border-collapse: collapse; margin-top: 10px;"> <thead> <tr> <th style="width: 30%;">Коренные малочисленные народы</th> <th style="width: 70%;">Субъект Российской Федерации</th> </tr> </thead> <tbody> <tr> <td>1) ительмены</td> <td>А) Республика Карелия</td> </tr> <tr> <td>2) саамы</td> <td>Б) Алтайский край, Республика Алтай, Кемеровская область</td> </tr> <tr> <td>3) ижорцы</td> <td>В) Камчатский край</td> </tr> <tr> <td>4) кумандинцы</td> <td>Г) Ленинградская область</td> </tr> </tbody> </table>	Коренные малочисленные народы	Субъект Российской Федерации	1) ительмены	А) Республика Карелия	2) саамы	Б) Алтайский край, Республика Алтай, Кемеровская область	3) ижорцы	В) Камчатский край	4) кумандинцы	Г) Ленинградская область	В А Г Б 25
Коренные малочисленные народы	Субъект Российской Федерации										
1) ительмены	А) Республика Карелия										
2) саамы	Б) Алтайский край, Республика Алтай, Кемеровская область										
3) ижорцы	В) Камчатский край										
4) кумандинцы	Г) Ленинградская область										
<p>4. Выберите правильный вариант ответа. В этих городах России самая большая доля иностранных мигрантов в населении города: А) Иваново и Ульяновск Б) Самара и Нижний Новгород В) Грозный и Махачкала Г) Москва и Санкт-Петербург</p>	Г 1										

<p>5. Выберите правильный вариант ответа. Республики Дагестан, Северную Осетию (Аланию), Ставропольский край включают в: А) Северо-Кавказский экономический район, Южный федеральный округ Б) Северо-Кавказский экономический район, Северо-Кавказский федеральный округ В) Северо-Кавказский экономический район, Приволжский федеральный округ Г) Уральский экономический район, Южный федеральный округ</p>	Б 1										
<p>6. Выберите правильный вариант ответа. Кировскую, Нижегородскую области, Республику Чувашию включают в: А) Северный экономический район, Приволжский федеральный округ Б) Центральный экономический район, Центральный федеральный округ В) Поволжский экономический район, Приволжский федеральный округ Г) Волго-Вятский экономический район, Приволжский федеральный округ</p>	X 0										
<p>7. Установите соответствие между субъектом Российской Федерации и годом его образования (или последнего преобразования). Запишите в ответ буквы, расположив их в порядке, соответствующем цифрам.</p> <table border="1" style="width: 100%; border-collapse: collapse; margin-top: 10px;"> <thead> <tr> <th style="width: 50%;">Субъект Российской Федерации</th> <th style="width: 50%;">Год образования (преобразования) субъекта</th> </tr> </thead> <tbody> <tr> <td>1) Пермский край</td> <td>А) 2008</td> </tr> <tr> <td>2) Забайкальский край</td> <td>Б) 2005</td> </tr> <tr> <td>3) Республика Крым в составе РФ</td> <td>В) 2007</td> </tr> <tr> <td>4) Камчатский край</td> <td>Г) 2014</td> </tr> </tbody> </table>	Субъект Российской Федерации	Год образования (преобразования) субъекта	1) Пермский край	А) 2008	2) Забайкальский край	Б) 2005	3) Республика Крым в составе РФ	В) 2007	4) Камчатский край	Г) 2014	Б А Г В 15
Субъект Российской Федерации	Год образования (преобразования) субъекта										
1) Пермский край	А) 2008										
2) Забайкальский край	Б) 2005										
3) Республика Крым в составе РФ	В) 2007										
4) Камчатский край	Г) 2014										
<p>8. Установите соответствие между городом и</p>											

страной, в которой он расположен. Запишите в ответ буквы, расположив их в порядке, соответствующем цифрам.		Г А Б В
Город	Страна	
1) Запорожье	А) Казахстан	
2) Кустанай	Б) Австралия	
3) Аделаида	В) Франция	
4) Лион	Г) Украина	15
9. Какое государство относится к странам Карибского бассейна?		Г 15
А) Восточное Самоа Б) Эквадор В) Филиппины Г) Доминиканская Республика		
10. Какая страна одновременно входит в пятерку лидеров и по экспорту и по импорту вооружения?		Ж 0
А) США Б) Китай В) КНДР Г) Россия		
11. Из этих государств в последнюю четверть века выезжает самый большой процент местного населения в другие страны:		Г 15
А) Республика Корея и Индонезия Б) Италия и Испания В) Япония и Китай Г) Ямайка и Киргизия		
12. Это самый маленький по численности город Китая:		В 0
А) Чжэнчжоу Б) Шэньчжень В) Ухань Г) Харбин		
13. В этих городах больше всего иностранных туристов по статистике последних лет:		

А) Нью-Йорк и Стамбул Б) Бангкок и Лондон В) Вена и Мадрид Г) Москва и Пекин	Б 15
14. Назовите из списка одну страну, где в структуре доходов бюджета меньше всего получают от продажи продукции машиностроения за рубеж:	В 15
А) Малайзия Б) Тайвань В) Россия Г) Словакия	
15. Выберите два государства, где самый высокий индекс человеческого развития:	Б 0
А) Испания и Италия Б) Саудовская Аравия и Япония В) Израиль и Республика Корея Г) Норвегия и Австрия	
16. В этих странах самая низкая плотность населения:	Б 15
А) Азербайджан и Мексика Б) Нигер и Перу В) Польша и Ливан Г) Испания и Турция	
17. Эти страны выделяются развитостью отраслей хозяйства связанных с медициной, они приносят существенный экспортный доход:	А 15
А) Великобритания и Израиль Б) Россия и Бразилия В) Литва и Румыния Г) Индия и Колумбия	
18. Эти страны являются лидерами в мире по поголовью крупнорогатого скота:	В 15
А) США и Китай Б) Аргентина и Россия В) Бразилия и Индия	

Г) Канада и Франция	
19. Какой из штатов США не имеет морских границ? А) Вашингтон Б) Арканзас В) Алабама Г) Нью-Гэмпшир	В D
20. Это самое большое по площади федеративное образование (штат или субъект) из предложенных: А) Калифорния Б) Саскачеван В) Мату-Гросу Г) Иркутская область	A D